

# 14. KONU

## Kesir Bütün - Yarım - Çeyrek

### Matematik

Ad : .....

Soyad : .....


Puan : .....

6. ve 8. soru 20 puan diğerleri 10 puandır.

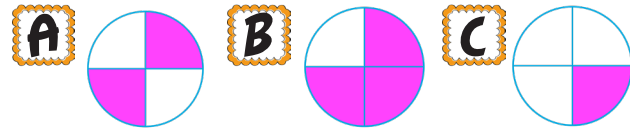
**1** Aşağıdaki kesirlerden hangisi çeyreği gösteriyordur?

**A**  $\frac{1}{2}$       **B**  $\frac{1}{3}$       **C**  $\frac{1}{4}$

**2** Hangi model  $\frac{1}{2}$  kesrini ifade ediyor?



**3** Boyalı alanlara baktığınızda yanda verilen kesri  $\frac{1}{4}$  ifade eden hangisidir?



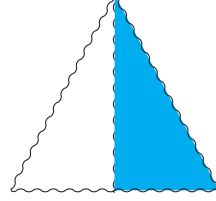

**4** "İkide bir" diye okunan kesir hangi seçenekte verilmiştir?

**A**  $\frac{1}{2}$       **B**  $\frac{1}{3}$       **C**  $\frac{1}{4}$

**5** Dörtte birini Fufuk'a verdi. Fufuk'un payına düşen parçayı gösteren kesir hangisidir?

**A**  $\frac{1}{1}$       **B**  $\frac{1}{2}$       **C**  $\frac{1}{4}$

**6**



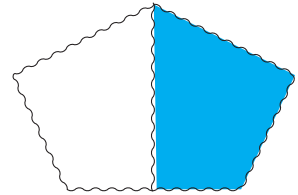
Yukarıdaki modellerden kaç tanesi yarımı ifade ediyor?

**A** 1      **B** 2      **C** 3

**7** Paydası 2 ve payı bir olan kesir hangi seçenekte doğru verilmiştir?

**A**  $\frac{2}{1}$       **B**  $\frac{1}{2}$       **C**  $\frac{2}{2}$

**8**



Yukarıdaki geometrik şeklin boyalı kısmını ifade eden kesrin okunuşu hangi seçenekte doğru yazılmıştır?

**A** İki bölü bir  
**B** İkide bir  
**C** İki parça bir