

2. KONU

Ritmik Sayma

Matematik

Ad :

Soyad :

Puan :


1. ve 2. soru 4 puan diğerleri 7 puandır.


1 23 29 35 ? 47 53


Yukarıda soru işareti olan yere hangi sayı gelmelidir?

A 40 B 41 C 42

2 Hangi çocuk geriye yedişer ritmik saymıştır?

A  63 - 70 - 77 - 84 - 91

B  70 - 62 - 54 - 46 - 38

C  74 - 67 - 60 - 53 - 46

3 Hangi seçenekteki ritmik saymada hata vardır?

A 28 - 37 - 46 - 55 - 63

B 73 - 70 - 67 - 64 - 61

C 35 - 40 - 45 - 50 - 55

4 47'den başlayıp ileriye dörder saydığımızda 5. söylediğimiz sayı kaç olur?




A 59 B 63 C 64

5 58 - 53 - 48 - 43 - 38

26 - 32 - 38 - 44 - 50

73 - 64 - 55 - 46 - 37

İleriye ritmik sayıları kırmızı, geriye ritmik sayıları mavi renge boyadığımızda oluşan görüntü hangi seçenekte doğru verilmiştir?

A  B  C 

6 Dokuzar ileriye ritmik sayma yapan sayılar hangi seçenekte doğru verilmiştir?

A 9 - 18 - 25 - 34 - 43

B 82 - 73 - 64 - 55 - 46

C 38 - 47 - 56 - 65 - 74

7 293 303 493 593 693 793

Her kutuda yüz artarak ileriye ritmik sayma yapan Fufuk, hangi sayıyı yanlış yazmıştır?

A 303 B 493 C 593

8



Geriyeye onar ritmik sayma yaptığımda 48 sayısını görüyorum.

Buna göre Fufuk ritmik saymaya hangi sayı ile başlamış olabilir?

A 38

B 138

C 184

9

222'den başlayıp ileriye onar ritmik saydığınızda hangi sayı ağızımızdan hiç çıkmaz?

A 333

B 322

C 282

10

375'ten başlayıp ileriye yüzler ritmik saydığınızda hangi sayı ağızımızdan hiç çıkmaz?

A 975

B 575

C 400

11

Hangi seçenekte yapılan ritmik saymada hata yoktur?

A 635 - 535 - 435 - 425

B 89 - 99 - 109 - 119 - 129

C 423 - 418 - 412 - 406 - 400

12

678'den başlayıp ileriye onar sayarsak 6. söylediğimiz sayı kaç olur?

A 728

B 718

C 708

13

Hangi ritmik saymayı yaparsak 3 basamaklı doğal sayı göremeyiz?

A

89'dan başlayıp ileriye birer sayarsak.

B

563'ten başlayıp geriye yüzler yüzler sayarsak.

C

95'ten başlayıp geriye ikişer sayarsak.

14



7 - 14 - 21 - 28 - 35



43 - 36 - 29 - 22 - 15



82 - 75 - 68 - 60 - 53

Hangi şeklin yanındaki ritmik sayma yedişer azalarak sayılmıştır?

A



B



C



11

Hangi seçenekte yapılan ritmik saymada hata yoktur?

A 635 - 535 - 435 - 425

B 89 - 99 - 109 - 119 - 129

C 423 - 418 - 412 - 406 - 400

12

678'den başlayıp ileriye onar sayarsak 6. söylediğimiz sayı kaç olur?

A 728

B 718

C 708

15

378

370

358

368

338

328

1

2

3

378'den başlayıp her kutuda on azalarak ritmik sayma yapılmak istenmiştir. Fakat bazı kutulardaki sayılar hatalıdır. Buna göre kaç numaralı kutular hatalıdır?

A 1,2

B 2,3

C 1,3